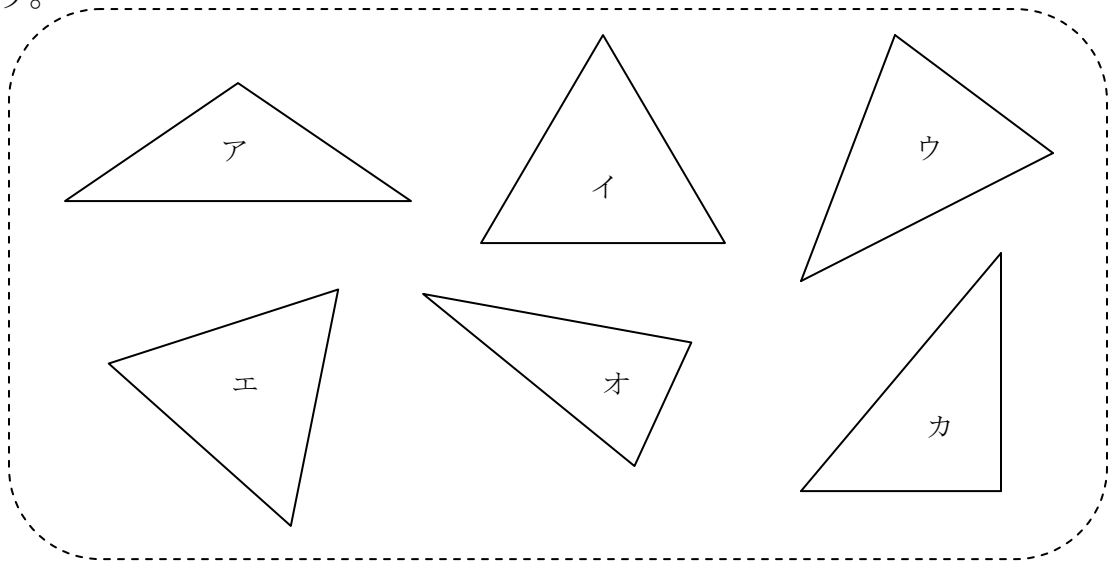


1 二等辺三角形、正三角形を2つずつ見つけて、ア～カで答えましょう。



二等辺三角形

正三角形

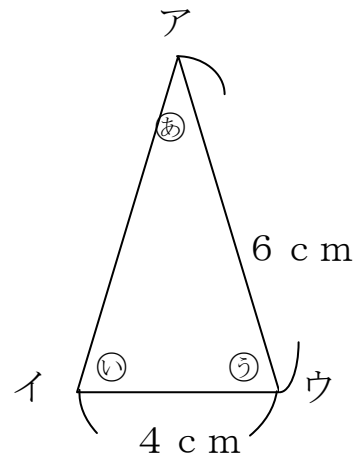
( ) と ( )

( ) と ( )

2 右の図は二等辺三角形です。

① アイの辺の長さは何 cm ですか。  
( )

② ㉕の角と大きさが等しいのは、どの角ですか。  
( )

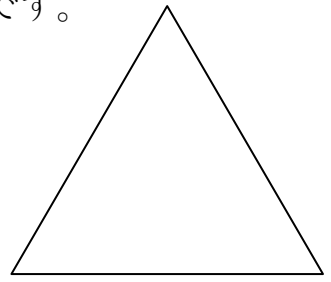


3 右の三角形は辺の長さがすべて等しい三角形です。

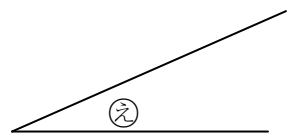
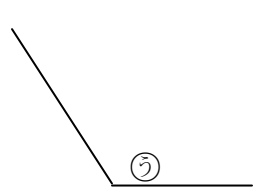
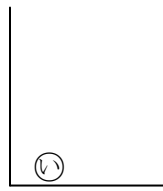
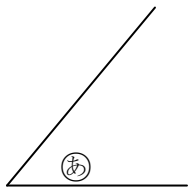
① 何という三角形ですか。( )

② 大きさが等しい角は、いくつありますか。

( )



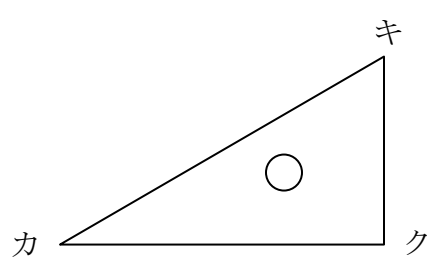
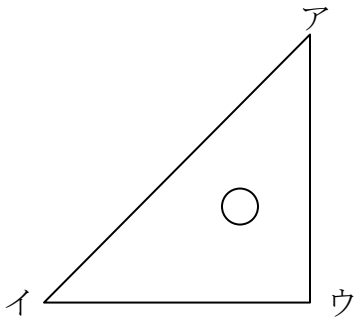
4 下の4つの角の大きさをくらべましょう。



① いちばん大きい角はどれですか。( )

② いちばん小さい角はどれですか。( )

5 三角じょうぎの角の大きさについて答えましょう。



① ウの角と大きさが等しい角は、どの角ですか。( )

② アの角とカの角では、どちらの角が大きいですか。( )