

<練習問題>

名前

1] 次の数を読みましょう。(漢数字で書きましょう)

1 9 3 1 7 2 8 2 . . . ( )

6 1 2 4 8 3 5 . . . ( )

2 7 4 5 9 6 1 8 . . . ( )

7 5 1 0 9 8 9 . . . ( )

7 0 2 0 6 0 1 0 . . . ( )

3 0 0 0 6 0 . . . ( )

2] 次の数を数字で書きましょう。

二千六百三十九万五千六百四十三 . . . ( )

七千九百三十四万二千二百八十五 . . . ( )

五十六万八千百四十五 . . . ( )

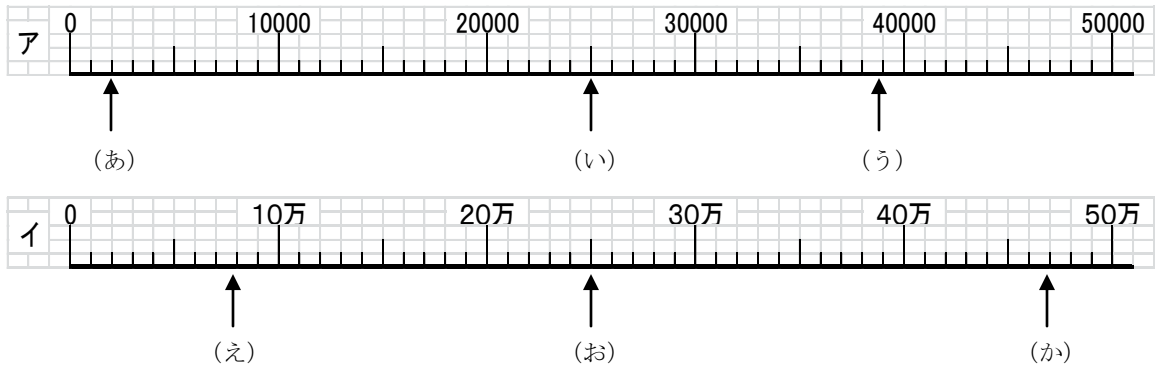
六百七十万二千九十九 . . . ( )

八千一万千百十一 . . . ( )

千八十万三千四百 . . . ( )

九千万 . . . ( )

3 下の目もりがついたアとイの2つの線をくらべましょう。



① 1目もりは、それぞれいくつを表しているでしょうか。

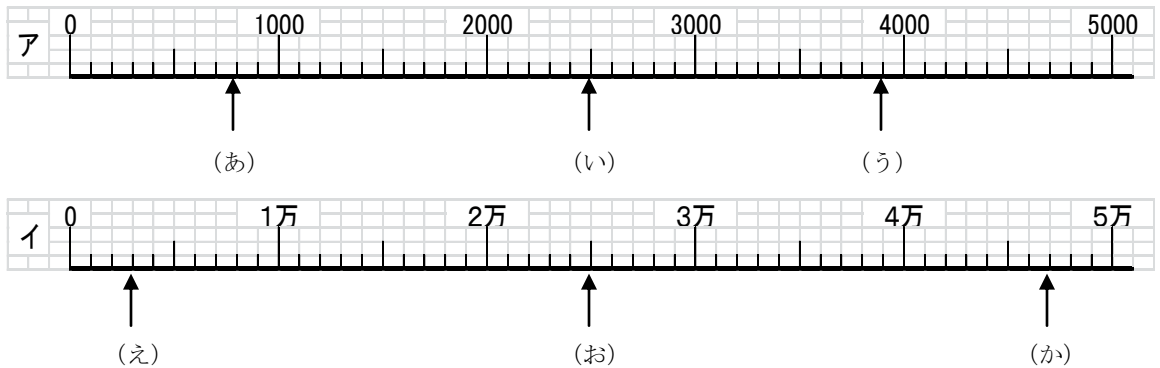
ア ( )                      イ ( )

② (あ) ~ (か) の数を答えましょう。

あ ( )    い ( )    う ( )

え ( )    お ( )    か ( )

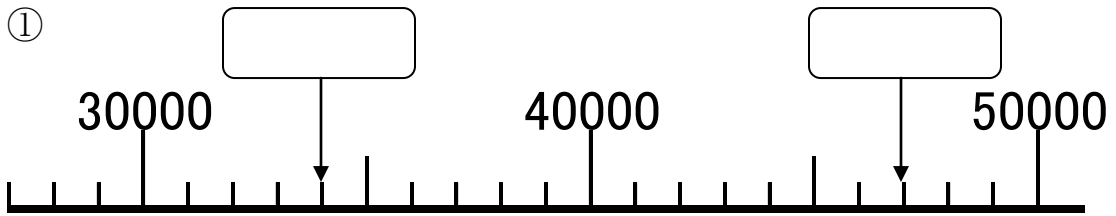
4 下の2つの数直線で、(あ) ~ (か) の数を答えましょう。



あ ( )    い ( )    う ( )

え ( )    お ( )    か ( )

5  にあてはまる数を書きましょう。



6  にあてはまる数を書きましょう。

① 100 - 200 -  - 400 -

② 99998 - 99999 -  - 100001

③ 99000 -  - 101000 - 102000

④ 290万 - 295万 -  - 305万 -

⑤ 599万 - 600万 - 601万 -

7 次の  にあてはまる等号、不等号を書きましょう。

① 54300  64100

② 17300  17030

③ 9876543  12345678

④ 1 0 0 0 0 0 0 0  一千万

⑤ 3 3 3 3 3 3 3 4  4 4 4 4 4 4 3

⑥ 二百万  二十九万六千七百五十九

⑦ 6 3 8 2 9 7 8 4  6 3 8 2 8 7 8 4

⑧ 5 4 5 0 0  5 4 5 0 0 0

⑨ 1 2 3 4 0  1 2 3 4 5

⑩ 9 9 9 9 9 9  9 9 9 9 0 0

8 次の数を大きい順に、( ) にならべかえましょう。

○ <1 0 0 0 0 0、1 0 0 0、1 0 0 1 0、1 1 1 1 1>  
( )

○ <5 9 0 0 0 0、9 4 0 0 0、5 9 0 0 0、5 4 0 0 0 0>  
( )

○ <3 4 5 0 0、3 5 4 0 0、3 5 4 0 0 0 0、3 4 4 0 0>  
( )

○ <9 9 9 9 9 9 9、8 8 8 8 8 8 8 8、1 0 0 0 0 0 0 0 0 0>  
( )