

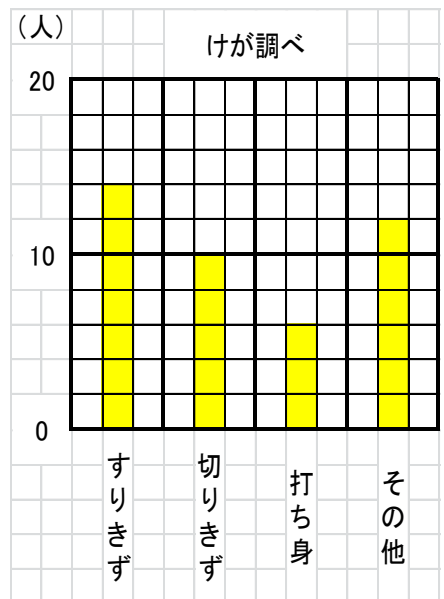
① 3年1組で、今日の朝食を調べました。

しゅるい	人数 (人)
パン	正 下
ごはん	正
ラーメン	下
その他	正 一
合計	

- ① 「正」を数字になおして上の表に整理し、合計も書きましょう。
- ② 人数がいちばん多いのは、どの朝食ですか。()

② 右のぼうグラフを見て答えましょう。

- ① 1目もり分は、何人を表していますか。()
- ② 打ち身をした人は、何人ですか。()
- ③人数がいちばん多いけがは、なんですか。()



③ 右の表をぼうグラフに表します。

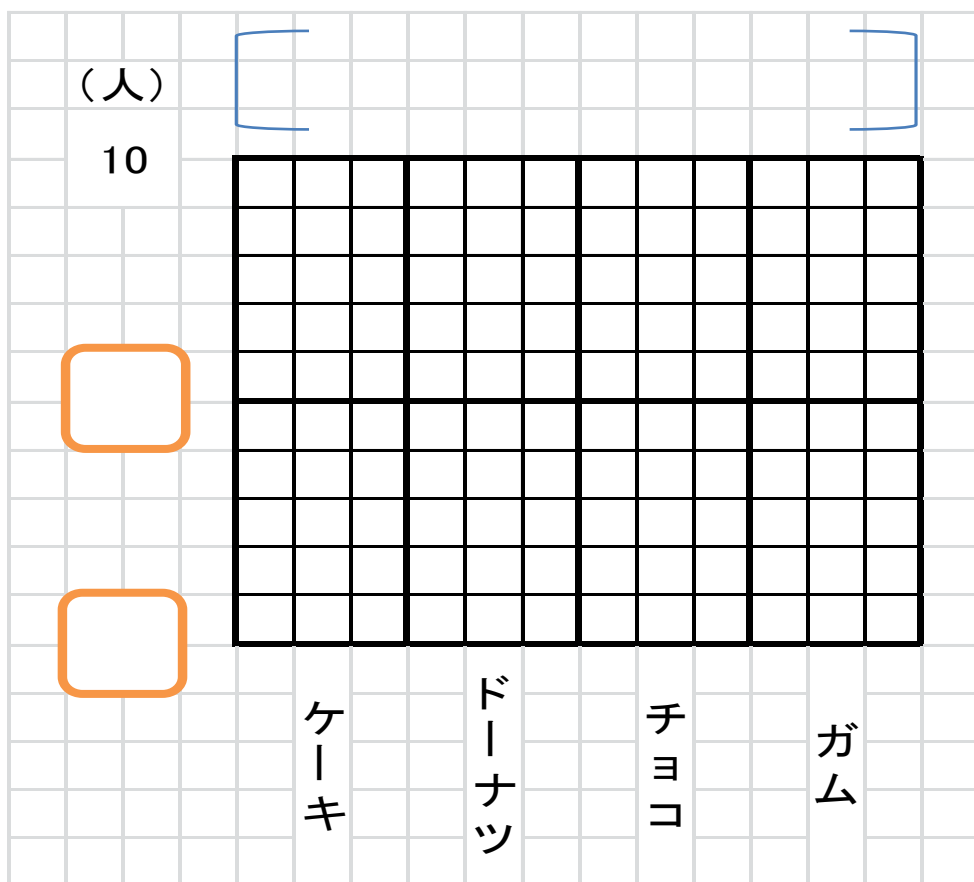
① に目もりの数を書きましょう。

② 人数に合わせて、ぼうを書きましよう。

③ に表題を書きましょう。

すきなおかし調べ

しゅるい	人数 (人)
ケーキ	8
ドーナツ	6
チョコ	4
ガム	1
合計	19



4 下の表を見て答えましょう。

6年生の町べつ的人数

町 \ 組	1組 (人)	2組 (人)	3組 (人)	合計 (人)
北町	13	11	7	ア
南町	7	15	10	32
その他	9	8	13	イ
合計	29	ウ	エ	オ

① ア～オにあてはまる数を、上の表に書きましょう。

② オに入る数は、何を表していますか。

()

5 下の3つの表を、1つの表に整理しましょう。

好きな動物調べ (3の1)

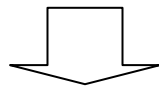
しゅるい	数 (人)
いぬ	15
ねこ	6
うさぎ	8
その他	5
合計	

好きな動物調べ (3の2)

しゅるい	数 (人)
いぬ	21
ねこ	19
うさぎ	24
その他	8
合計	

好きな動物調べ (3の3)

しゅるい	数 (人)
いぬ	16
ねこ	14
うさぎ	19
その他	9
合計	



好きな動物調べ

しゅるい \ 組	1組 (人)	2組 (人)	3組 (人)	合計
いぬ				
ねこ				
うさぎ				
その他				
合計				