



1 下のテープの色をぬったところの長さは何mですか。

分数で表しましょう。

①

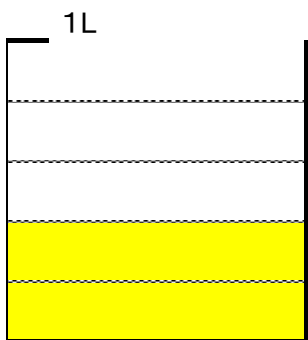


②



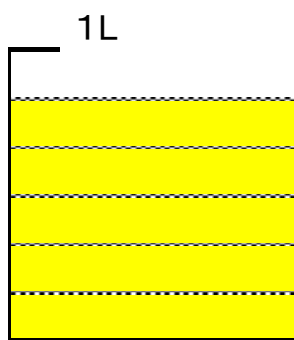
2 下の水のかさは何Lですか。分数で表しましょう。

①



( )

②



( )

3  にあてはまる数を書きましょう。

① 1 mを5等分した3こ分の長さは、 m。

②  $\frac{4}{7}$  d Lは、 $\frac{1}{7}$  d Lの  ぶん。

③  $\frac{1}{4}$  Lの  ぶんは、1 L。

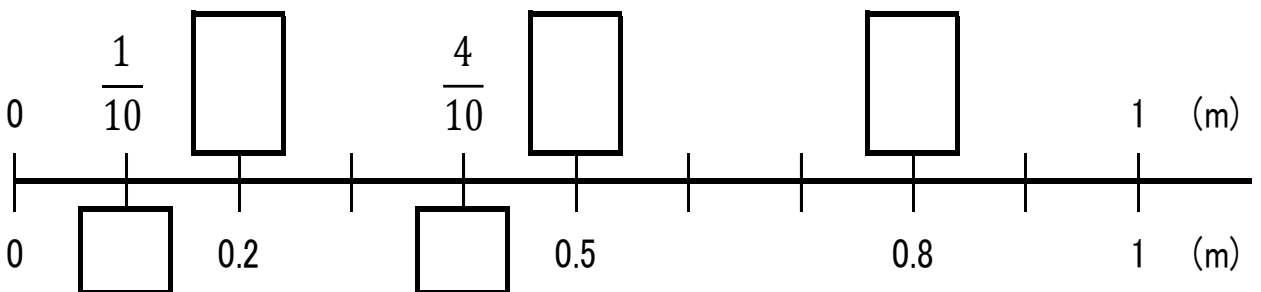
4  にあてはまる等号や不等号を書きましょう。

①  $\frac{2}{3}$    $\frac{1}{3}$

②  $\frac{4}{10}$   0.4

③  $\frac{7}{10}$   0.8

5  にあてはまる分数、または小数を書きましょう。



6 たし算をしましょう。

①  $\frac{1}{3} + \frac{1}{3}$

②  $\frac{2}{6} + \frac{3}{6}$

③  $\frac{4}{8} + \frac{3}{8}$

④  $\frac{2}{10} + \frac{7}{10}$

⑤  $\frac{1}{2} + \frac{1}{2}$

⑥  $\frac{2}{3} + \frac{1}{3}$

7 ひき算をしましょう。

①  $\frac{2}{3} - \frac{1}{3}$

②  $\frac{3}{6} - \frac{2}{6}$

③  $\frac{7}{9} - \frac{1}{9}$

④  $\frac{9}{10} - \frac{8}{10}$

⑤  $1 - \frac{3}{4}$

⑥  $1 - \frac{4}{6}$

8  $\frac{6}{7}$  mのリボンと、1 mの紙テープがあります。

①リボンと紙テープでは、どちらが長いですか。

答え ( )

②リボンと紙テープの長さのちがいは、何mですか。

式

答え ( )

9 牛にゆうを、お兄さんは $\frac{3}{8}$  L、弟は $\frac{2}{8}$  Lのみました。

① お兄さんと弟、合わせて何L飲みましたか。

式

答え ( )