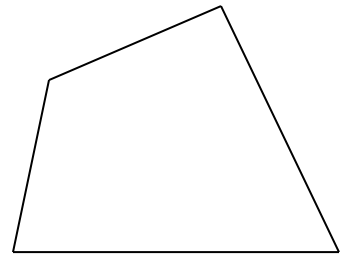


① 三角形の3つの角の大きさの和は何度ですか。  
( )

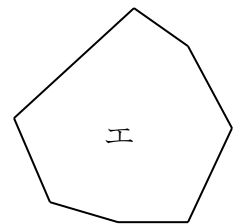
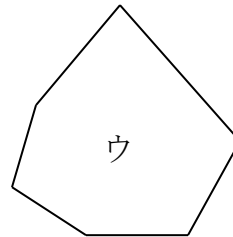
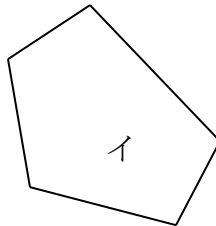
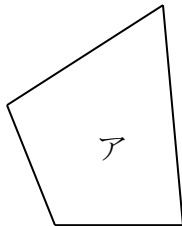
② 四角形の4つの角の大きさの和を求めます。

① 1つの頂点から対角線をひくと、いくつの三角形に分けられますか。  
( )

② 四角形の4つの角の大きさの和は何度ですか。  
( )



③ 下の図形について答えましょう。



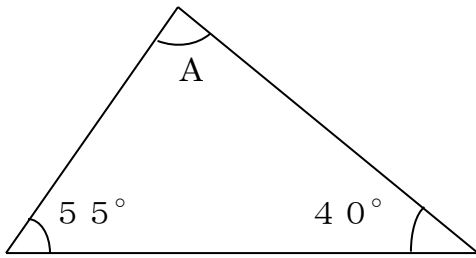
① 上の図形のように、直線だけで囲まれた図形を何といいますか。  
( )

② 上の図形のそれぞれの名前と、角の大きさの和を、下の表に書きましょう。

	ア	イ	ウ	エ
図形の名前				
角の大きさの和				

4 A、B、C、Dの角の大きさを計算で求めましょう。

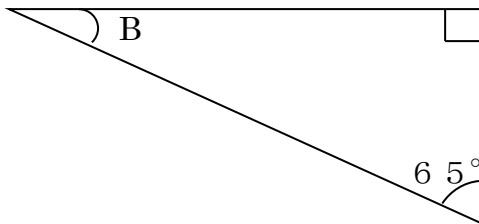
①



式

答え ( )

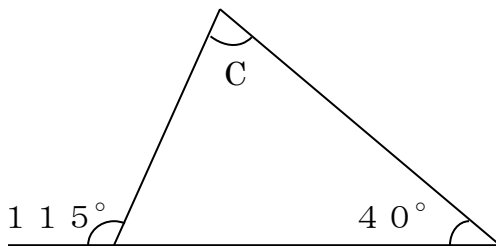
②



式

答え ( )

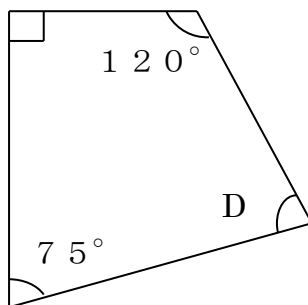
③



式

答え ( )

④

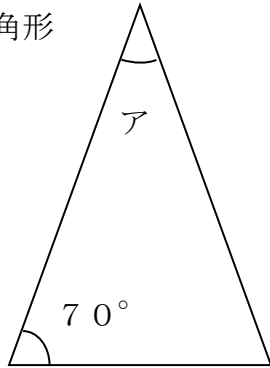


式

答え ( )

5 下の図で、ア、イ、ウ、エの角の大きさを計算で求めましょう。


① 二等辺三角形



式

答え ( )

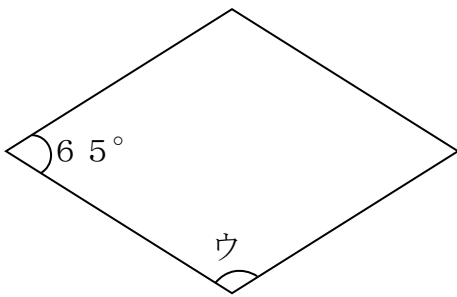
② 平行四辺形



式

答え ( )

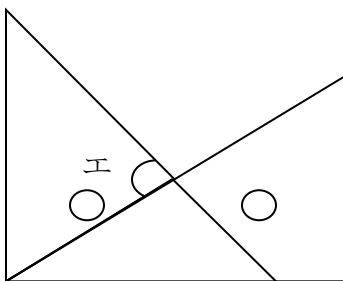
③ ひし形



式

答え ( )

④



式

答え ( )