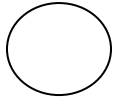
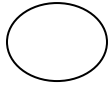


名前


① 3つのみかんの重さを調べました。



120g



111g



138g

① に言葉を入れて、平均を求める式を完成させましょう。

平均 = ÷

② みかんの重さの平均は、何gですか。

式

答え ()

② 保健室を利用した人数は、1日に平均何人ですか。

1週間に保健室を利用した人数

曜日	月	火	水	木	金
人数(人)	4	5	0	2	8

式

答え ()

名前

④ かべ1 m²ぬるのに、ペンキを3 d L使います。

① 8 m²のかべをぬるには、何 d Lのペンキがいりますか。

式

答え ()

② 42 d Lのペンキでは、何m²のかべをぬることができますか。

式

答え ()

⑤ 右の表は、AとBの畑でとれた
いもの重さです。よくとれたのは、
どちらの畑ですか。

畑の面積といもの重さ

	面積 (m ²)	重さ (k g)
A	500	800
B	400	700

式

答え ()

大山小5年 単位量あたりの大きさテスト ()

名前

6 みどり市の面積は42km²で、人口は86100人です。

みどり市の^{じんこうみつど}人口密度を求めましょう

式

答え ()

7 右の表は、ある野球チームの最近4試合の
得点です。1試合の平均の得点を5点にするには、
5試合目に何点とればよいですか。

試合の得点 (点)

1 試合目	6
2 試合目	7
3 試合目	0
4 試合目	3

式

答え ()